

**ОЛИМПИАДА ШКОЛЬНИКОВ
«ЛОМОНОСОВ–2020»
ПО ИСТОРИИ РОССИЙСКОЙ ГОСУДАРСТВЕННОСТИ**



Ответы на задания отборочного этапа

10–11 класс

№1	2 балла
№2	2 балла
№3	2 балла
№4	4 балла
№5	4 балла
№6	5 баллов
№7	4 балла
№8	4 балла
№9	4 балла
№10	4 балла
№11	2 балла
№12	5 баллов
№13	4 балла
№14	4 балла
№15	50 баллов

Задание №1.

Вариант 1

Жизнь и деятельность правителей российского государства привлекали внимание как современников, так и потомков. В результате многие из них получили емкие, образные характеристики.

Какому правителю России В.О. Ключевский дал характеристику: «...стоял на рубеже двух веков, резко между собой различавшихся... трудно найти другое историческое лицо, на котором бы встретилось столько разнообразных культурных влияний тогдашней Европы?»

- (1) Петр I
- (2) Петр III
- (3) Павел I
- (4) Александр I
- (5) Николай I
- (6) Александр II
- (7) Александр III

Ответ: Александр I

Вариант 2

Жизнь и деятельность правителей российского государства привлекали внимание как современников, так и потомков. В результате многие из них получили емкие, образные характеристики.

Какому правителю России С.М. Соловьев дал характеристику: «ни один русский государь не имел такой силы в делах целой Европы, и эту силу приобрел он не покорением народов, а их избавлением от французского, наполеоновского ига»

- (1) Петр I
- (2) Петр III
- (3) Павел I
- (4) Александр I
- (5) Николай I
- (6) Александр II
- (7) Александр III

Ответ: Александр I

Вариант 3

Жизнь и деятельность правителей российского государства привлекали внимание как современников, так и потомков. В результате многие из них получили емкие, образные характеристики.

Какому правителю С.Ф. Платонов дал характеристику: «личность [правителя] действительно становится нам понятна лишь тогда, когда мы вдумываемся в обстоятельства его воспитания и в его семейную обстановку. Судьба поставила его между бабкой и отцом как предмет ревности и спора?»

- (1) Петр I
- (2) Петр III
- (3) Павел I
- (4) Александр I
- (5) Николай I
- (6) Александр II
- (7) Николай II

Ответ: Александр I

Задание №2.

Вариант 1

Перед Вами изображение одного из древнерусских князей и связанный с ним летописный эпизод:



«... стал настолько жалостлив к людям, что прекратил казнить и наказывать преступников; вследствие этого вскоре развелось огромное множество воров и убийц...так что не было безопасного проезда к Киеву. Тогда сами епископы пришли к (...) и сказали, что умножились разбойники, отчего не казнишь их? Боюсь греха., отвечал (...). Ты поставлен от Бога, - сказали ему на это епископы, - казнить злых, а добрых миловать...».

Опираясь на сведения по истории российской государственности, определите, о каком из князей идет речь:

- (1) Святослав Игоревич
- (2) Ярополк Святославич
- (3) Владимир Святославич Святой
- (4) Ярослав Владимирович Мудрый
- (5) Изяслав Ярославич
- (6) Всеволод Ярославич
- (7) Святополк Изяславич
- (8) Владимир Всеволодович Мономах
- (9) Мстислав Владимирович Великий
- (10) Андрей Юрьевич Боголюбский

Ответ: Владимир Святославич Святой

Вариант 2

Перед Вами изображение одного из древнерусских князей и связанный с ним летописный эпизод:



«Увидел (...), что церковь построена, вошел в нее и помолился Богу, говоря так: «Господи Боже! Взгляни с неба и воззри. И посети сад свой. И сверши то, что насадила десница твоя» — этих новых людей, сердце которых ты обратил к истине познать тебя, Бога истинного. Взгляни на церковь твою, которую создал я, недостойный раб твой, во имя родившей тебя матери приснодевы Богородицы...». И, помолвившись Богу, сказал он так: «Даю церкви этой святой Богородицы десятую часть от богатств моих и от моих городов...»»

Опираясь на сведения по истории российской государственности, определите, о каком из князей идет речь:

- (1) Святослав Игоревич
- (2) Ярополк Святославич
- (3) Владимир Святославич Святой
- (4) Ярослав Владимирович Мудрый
- (5) Изяслав Ярославич
- (6) Всеволод Ярославич
- (7) Святополк Изяславич
- (8) Владимир Всеволодович Мономах
- (9) Мстислав Владимирович Великий
- (10) Андрей Юрьевич Боголюбский

Ответ: Владимир Святославич Святой

Вариант 3

Перед Вами изображение одного из древнерусских князей и связанный с ним летописный эпизод:



«И стал (...) княжить в Киеве один и поставил кумиры на холме за теремным двором: деревянного Перуна с серебряной головой и золотыми усами, и Хорса и Даждьбога, и Стрибога, и Симаргла и Мокошь. И приносили им жертвы, называя их богами, и приводили своих сыновей, и приносили жертвы бесам, и оскверняли землю жертвоприношениями своими. <...> (...) посадил Добрыню, своего дядю, в Новгороде. И, придя в Новгород, Добрыня поставил кумира Перуна над рекою Волховом, и приносили ему жертвы новгородцы как богу»

Опираясь на сведения по истории российской государственности, определите, о каком из князей идет речь:

- (1) Святослав Игоревич
- (2) Ярополк Святославич
- (3) Владимир Святославич Святой
- (4) Ярослав Владимирович Мудрый
- (5) Изяслав Ярославич
- (6) Всеволод Ярославич
- (7) Святополк Изяславич
- (8) Владимир Всеволодович Мономах
- (9) Мстислав Владимирович Великий
- (10) Андрей Юрьевич Боголюбский

Ответ: Владимир Святославич Святой

Задание №3.

Вариант 1

Перед Вами изображение одного из российских монастырей и его описание:



В славном ряду духовных обителей России этот монастырь занимает особое место и считается одним из древнейших в нашем Отечестве. Он был заложен в начале XIV столетия в честь Пресвятой Троицы на средства татарского мурзы Чета, влиятельного вельможи Золотой Орды, который направлялся через эти края по пути в Москву на службу к великому князю Ивану Калите. Монастырь расположен в одном из самых живописных уголков Костромы — месте, где река Кострома впадает в Волгу.

О каком монастыре идет речь?

- (1) Боголюбский монастырь
- (2) Валаамский Спасо-Преображенский монастырь
- (3) Введенская Оптина пустынь
- (4) Донской монастырь
- (5) Зачатьевский монастырь
- (6) Ипатьевский монастырь
- (7) Кирилло-Белозерский монастырь
- (8) Новодевичий монастырь
- (9) Соловецкий монастырь
- (10) Троице-Сергиева Лавра

Ответ: Ипатьевский монастырь

Вариант 2

Перед Вами изображение одного из российских монастырей и его описание:



Один из самых древних московских монастырей был основан митрополитом Московским Алексием в 1365 году в память об исцелении от слепоты жены хана Джанибека. На протяжении веков монастырь играл видную роль в русской истории. Своего расцвета монастырь достиг в начале XVII века, когда его называли Великой лаврой. Монастырь издревле назывался митрополичьим и состоял всегда в ведении митрополитов, а затем патриархов Московских. Во время Высочайших визитов в Москву монастырь непременно включался в маршрут церковно-государственных церемоний и юбилейных торжеств. С XVI века монастырь был центром духовно-научного просвещения в России. Монастырь был разрушен в 1930 году.

О каком монастыре идет речь?

- (1) Боголюбский монастырь
- (2) Валаамский Спасо-Преображенский монастырь
- (3) Введенская Оптиная пустынь
- (4) Донской монастырь
- (5) Зачатьевский монастырь
- (6) Ипатьевский монастырь
- (7) Кирилло-Белозерский монастырь
- (8) Новодевичий монастырь
- (9) Соловецкий монастырь
- (10) Чудов монастырь

Ответ: Чудов монастырь

Вариант 3

Перед Вами изображение одного из российских монастырей и его описание:



В славном ряду духовных обителей России этот монастырь занимает особое место и считается одним из древнейших в нашем Отечестве. Основан в первой половине XIV века в 68 верстах от Москвы. Благодаря личности основателя, монастырь вскоре приобрел славу и стал играть важную роль в княжеских отношениях. Обитель постепенно укреплялась, регулярно строились новые храмы. Монастырь превосходил все другие обители своими богатствами. В 1561 году монастырь был поставлен выше всех монастырей Московской епархии. Сейчас монастырь включает 11 храмов, здания Духовной академии, мастерские, подворья, жилье для богомольцев.

О каком монастыре идет речь?

- (1) Боголюбский монастырь
- (2) Валаамский Спасо-Преображенский монастырь
- (3) Введенская Оптина пустынь
- (4) Донской монастырь
- (5) Зачатьевский монастырь
- (6) Ипатьевский монастырь
- (7) Кирилло-Белозерский монастырь
- (8) Новодевичий монастырь
- (9) Соловецкий монастырь
- (10) Троице-Сергиева Лавра

Ответ: Троице-Сергиева Лавра

Задание №4.

Вариант 1

В предложенном перечне современных российских городов выберите те, которые основаны в XVII веке:

- (1) Иркутск
- (2) Саратов
- (3) Ульяновск
- (4) Тобольск
- (5) Ярославль
- (6) Смоленск
- (7) Томск
- (8) Таганрог
- (9) Астрахань
- (10) Мурманск

Ответ: Иркутск; Ульяновск; Томск; Таганрог

Вариант 2

В предложенном перечне российских городов выберите те, которые были основаны в XVII веке:

- (1) Новороссийск
- (2) Пенза
- (3) Ульяновск
- (4) Хабаровск
- (5) Тамбов
- (6) Архангельск
- (7) Владимир
- (8) Красноярск
- (9) Рязань
- (10) Ставрополь

Ответ: Красноярск; Пенза; Ульяновск; Тамбов

Вариант 3

В предложенном перечне российских городов выберите те, которые были основаны в XVII веке:

- (1) Тамбов
- (2) Самара
- (3) Иркутск
- (3) Вологда
- (5) Псков
- (6) Владивосток
- (7) Тула
- (8) Волгоград
- (9) Якутск
- (10) Ульяновск

Ответ: Иркутск; Якутск; Ульяновск; Тамбов

Задание №5.

вариант 1

В русской исторической лексике есть понятия, образованные от имен и фамилий государственных и общественных деятелей.

Расположите понятия в порядке, соответствующем времени появления социально-исторические феноменов, ими обозначаемых:

- (А) корниловский мятеж;
- (Б) уваровская триада;
- (В) стахановское движение;
- (Г) морозовская стачка;
- (Д) хрущевская оттепель.

Ответ: Б Г А В Д

вариант 2

В русской исторической лексике есть понятия, образованные от имен и фамилий государственных и общественных деятелей.

Расположите понятия в порядке, соответствующем времени появления социально-исторические феноменов, ими обозначаемых:

- (А) безобразовская клика;
- (Б) нарышкинский стиль;
- (В) брусиловский прорыв;
- (Г) пугачевский бунт;
- (Д) брежневский застой.

Ответ: Б Г А В Д

вариант 3

В русской исторической лексике есть понятия, образованные от имен и фамилий государственных и общественных деятелей.

Расположите понятия в порядке, соответствующем времени появления социально-исторические феноменов, ими обозначаемых:

- (А) зубатовский социализм;
- (Б) булавинское восстание;
- (В) ленинский червонец;
- (Г) потемкинские деревни;
- (Д) косыгинские реформы.

Ответ: Б Г А В Д

Задание №6.

Вариант 1

Опираясь на сведения по истории российской государственности, определите, сколько правителей России первой половины XIX века являлись:

- (1) Князьями Курляндскими;
- (2) Царями Казанскими;
- (3) Царями Херсонеса Таврического;
- (4) Великими магистрами ордена св. Иоанна Иерусалимского;
- (5) Князьями Лифляндскими;
- (6) Государями Туркестанскими;
- (7) Великими князьями Финляндскими.

Обратите внимание: следует учитывать всех правителей, в том числе и тех, чье правление только началось или только закончилось в рамках указанного периода.

В ответе необходимо записать соответствующую последовательность **цифр** (напр., 0123456).

Ответ: 3331302

Вариант 2

Опираясь на сведения по истории российской государственности, определите, сколько правителей России первой половины XIX века являлись:

- (1) Царями Сибирскими;
- (2) Великими князьями Литовскими;
- (3) герцогами Шлезвиг-Голстинскими;
- (4) Государями Туркестанскими;
- (5) Князьями Эстляндскими;
- (6) Царями Херсонеса Таврического;
- (7) Великими князьями Финляндскими.

Обратите внимание: следует учитывать всех правителей, в том числе и тех, чье правление только началось или только закончилось в рамках указанного периода.

В ответе необходимо записать соответствующую последовательность **цифр** (напр., 0123456).

Ответ: 3330332

Вариант 3

Опираясь на сведения по истории российской государственности, определите, сколько правителей России первой половины XIX века являлись:

- (1) Царями Астраханскими;
- (2) Великими князьями Курляндскими;
- (3) Великими князьями Литовскими;
- (4) Царями Херсонеса Таврического;
- (5) Государями Туркестанскими;
- (6) Великими магистрами ордена св. Иоанна Иерусалимского;
- (7) Великими князьями Финляндскими.

Обратите внимание: следует учитывать всех правителей, в том числе и тех, чье правление только началось или только закончилось в рамках указанного периода.

В ответе необходимо записать соответствующую последовательность **цифр** (напр., 0123456).

Ответ: 3333012

Задание №7.*вариант 1*

Развитие российской государственности сопровождалось изменением системы государственного управления.

Расположите государственные учреждения в порядке их появления:

- (1) Посольский приказ
- (2) Верховный тайный совет
- (3) Главный магистрат
- (4) Верховная распорядительная комиссия
- (5) Государственная дума
- (6) Комитет министров
- (7) Совет национальностей

Ответ: 1326457*Вариант 2*

Развитие российской государственности сопровождалось изменением системы государственного управления.

Расположите государственные учреждения в порядке их появления:

- (1) Преображенский приказ
- (2) Совет народных комиссаров
- (3) Конференция при Высочайшем дворе
- (4) Святейший правительствующий синод
- (5) Непременный совет
- (6) Кабинет министров
- (7) Совет Федерации

Ответ: 1 4 6 3 5 2 7*Вариант 3*

Развитие российской государственности сопровождалось изменением системы государственного управления.

Расположите государственные учреждения в порядке их появления:

- (1) Приказ тайных дел
- (2) Военная коллегия
- (3) Государственный совет
- (4) Верховная распорядительная комиссия
- (5) Правительствующий Сенат
- (6) Совет народных комиссаров
- (7) Федеральное собрание

Ответ: 1 5 2 3 4 6 7

Задание №8.

вариант 1

Рассмотрите приведенное изображение и ознакомьтесь с отрывком из воспоминаний участника неформального консультативного совета.



«Наши таинственные собрания не могли ускользнуть от внимания двора и вскоре стали всем известны. Нас прозвали «партией молодых людей». Раз или два мы хотели убедить императора приступить к энергичным действиям, заставить себе повиноваться, устранить людей с устарелыми взглядами, служивших помехой всяким преобразованиям, и заместить этих людей молодежью. Но подобные настояния оказывались безуспешными по той причине, что император, вообще склонный к уступчивости и не умевший идти к своей цели иначе, как путем частичных соглашений и осторожных попыток, кроме того, еще и не чувствовал себя настолько господином положения, чтобы отважиться на мероприятия, казавшиеся ему слишком решительными».


В предложенном перечне выберите участников данного неформального консультативного совета:

- (1) Г.Р. Державин
- (2) М.М. Сперанский
- (3) Н.Н. Новосильцев
- (4) А. Чарторыйский
- (5) А.Х. Бенкендорф
- (6) Н.И. Салтыков
- (7) А.А. Аракчеев

Ответ: Н.Н. Новосильцев; А. Чарторыйский

вариант 2

Рассмотрите приведенное изображение и ознакомьтесь с отрывком из воспоминаний участника неформального консультативного совета.



«Мы пользовались в то время привилегией являться к столу императора без предварительного приглашения. Наши тайные собрания происходили два или три раза в неделю. После кофе и короткого общего разговора император удалялся, и в то время как остальные приглашенные разъезжались, четыре человека отправлялись через коридор в небольшую комнату, непосредственно сообщавшуюся с внутренними покоями их величеств, куда затем приходил и государь».


В предложенном перечне выберите участников данного неформального консультативного совета:

- (1) А.А. Безбородко
- (2) М.М. Сперанский
- (3) В.П. Кочубей
- (4) П.А. Строганов
- (5) С.С. Уваров
- (6) Н.П. Румянцев
- (7) П.А. Зубов

Ответ: В.П. Кочубей; П.А. Строганов

вариант 3

Рассмотрите приведенное изображение и ознакомьтесь с отрывком из воспоминаний участника неформального консультативного совета.



«Обсуждались различные преобразовательные планы; не было вопроса, который бы не затрагивался в этих беседах. Император вполне откровенно раскрывал перед нами свои мысли и свои истинные чувства. И хотя эти собрания долгое время представляли собой простое препровождение времени в беседах, не имевших практических результатов, все же, надо сказать правду, что не было ни одного внутреннего улучшения, ни одной полезной реформы, намеченной или проведенной в России в это царствование, которые не зародились бы на наших тайных совещаниях».

В предложенном перечне выберите участников данного неформального консультативного совета:

- (1) А.А. Безбородко
- (2) М.М. Сперанский
- (3) В.П. Кочубей
- (4) Н.Н. Новосильцев
- (5) П.Я. Чаадаев
- (6) А.Р. Воронцов
- (7) Д.П. Троицкий

Ответ: В.П. Кочубей; Н.Н. Новосильцев

Задание №9

Вариант 1

Правители Российской империи соблюдали традицию издания всемилостивейших манифестов, приуроченных к знаменательным датам.

Перед Вами изображение одного из российских императоров:



В нижеприведенном перечне укажите фрагменты из манифестов, изданных этим императором:

(1) «Простить и со счетов сложить числящиеся по день Коронования Нашего долги по ссудам, выданным из государственного казначейства, а равно из капиталов Министерства Государственных Имуществ: государственным крестьянам, а также ямщикам...»

(2) «...отвергнув ужасы Тайной Экспедиции, Мы исторгнули из заклепов ея все ея жертвы; уничтожив бесконечные следствия и суды над чиновниками и всякого звания людьми...»

(3) «Сии же медали, на ленте ордена Святого Апостола Андрея Первозванного, Мы предназначаем для воинов, участвовавших в блистательных битвах и вообще в военных действиях ... как в Азиатской Турции, так и в пределах Нашей Империи, в отбитии сопротивных сил от Петропавловска и в истребившем значительную часть Турецкого флота деле Синопском...»

(4) «Все находящиеся в разных наших службах дворяне могут оную продолжать, сколь долго пожелают, и их состояние им позволит, однако ж военные ни во время компании, ниже пред начатием оной за три месяца об увольнении из службы, или абшида просить да не дерзают»

(5) «Произволением Всевышнего вступив в обладание Великого Княжества Финляндии признали Мы за благо сим вновь утвердить и удостоверить Религию, коренные Законы, права и преимущества, коими каждое состояние сего Княжества в особенности и все подданные оное населяющие от мала до велика по Конституциям их доселе пользовались»

(6) «Россия исполнит свое Святое призвание! Так рекли Мы любезным Нашим верноподданным, возвещая, что Мы повелели Нашим армиям, по желанию Союзника Нашего, Императора Австрийского, идти усмирять мятеж в Венгрии и восстановить в оной законную власть ее Государя. – Божиим милосердием так и совершилось»

(7) «Желая <...> более привязать городских обывателей к состоянию их, от процветания коего зависят и успехи торговли и промышленности, Мы признали за благо права и преимущества их упрочить нижеследующими постановлениями: в состоянии городских обывателей устанавливается новое сословие почетных граждан»

Ответ: (2), (5)

Вариант 2

Правители Российской империи соблюдали традицию издания все милостивейших манифестов, приуроченных к знаменательным датам.

Перед Вами изображение одного из российских императоров:



В нижеприведенном перечне укажите фрагменты из манифестов, изданных этим императором:

(1) «Желая <...> более привязать городских обывателей к состоянию их, от процветания коего зависят и успехи торговли и промышленности, Мы признали за благо права и преимущества их упрочить нижеследующими постановлениями: в состоянии городских обывателей устанавливается новое сословие почетных граждан»

(2) «...восстановили Мы на вечныя времена грамоту Дворянству, коея сила от стечения обстоятельств в разных отношениях ея была потрясена; утвердили Городовое Положение и возвратили гражданам преимущества их во всей неприкосновенности...»

(3) «Посреди великой Нашей скорби Глас Божий повелевает Нам стать бодро на дело Правления... с верою в силу и истину Самодержавной Власти, которую Мы призваны утверждать и охранять для блага народного от всяких на нее поползновений».

(4) «Тем из понесших наказание за участие в мятеже в губерниях Царства Польского и Западных, ..., предоставляем...право свободного избрания местожительства..., а равно право вступать в государственную и общественную по выборам службу...»

(5) «Произволением Всевышнего вступив в обладание Великого Княжества Финляндии признали Мы за благо сим вновь утвердить и удостоверить Религию, коренные Законы, права и преимущества, коими каждое состояние сего Княжества в особенности и все подданные оное населяющие от мала до велика по Конституциям их доселе пользовались»

(6) «Россия исполнит свое Святое призвание! Так рекли Мы любезным Нашим верноподданным, возвещая, что Мы повелели Нашим армиям, по желанию Союзника Нашего, Императора Австрийского, идти усмирять мятеж в Венгрии и восстановить в оной законную власть ее Государя. – Божиим милосердием так и совершилось»

(7) «Мы, восприемля наследственно Императорский Всероссийский Престол, восприемлем купно и обязанность управлять Богом Нам врученный народ по законам и по сердцу в Бозе почивающей Августейшей Бабки Нашей, Государыни Императрицы Екатерины Великой, коея память Нам и всему Отечеству вечно пребудет любезна»

Ответ: (1), (6)

Вариант 3

Правители Российской империи соблюдали традицию издания всемилостивейших манифестов, приуроченных к знаменательным датам.

Перед Вами изображение одного из российских императоров:



В нижеприведенном перечне укажите фрагменты из манифестов, изданных этим императором:

(1) «...отвергнув ужасы Тайной Экспедиции, Мы исторгнули из заклепов ея все ея жертвы; уничтожив бесконечные следствия и суды над чиновниками и всякого звания людьми...»

(2) «...восстановили Мы на вечныя времена грамоту Дворянству, коея сила от стечения обстоятельств в разных отношениях ея была потрясена; утвердили Городовое Положение и возвратили гражданам преимущества их во всей неприкосновенности...»

(3) «Обращав последний взор на сии горестные происшествия, обязанностию Себе вменяем: на том самом месте, где в первый раз, тому ровно семь месяцев, среди мгновенного мятежа, явилась пред Нами тайна зла долголетнего, совершить последний долг воспоминания, как жертву очистительную за кровь Русскую, за Веру, Царя и Отечество, на сем самом месте пролиянную, и вместе с тем принести Всевышнему торжественную мольбу благодарения»

(4) «Тем из понесших наказание за участие в мятеже в губерниях Царства Польского и Западных, ..., предоставляем...право свободного избрания местожительства..., а равно право вступать в государственную и общественную по выборам службу...»

(5) «Мы, восприемля наследственно Императорский Всероссийский Престол, восприемлем купно и обязанность управлять Богом Нам врученный народ по законам и по сердцу в Бозе почивающей Августейшей Бабки Нашей, Государыни Императрицы Екатерины Великой, коея память Нам и всему Отечеству вечно пребудет любезна»

(6) «Россия исполнит свое Святое призвание! Так рекли Мы любезным Нашим верноподданным, возвещая, что Мы повелели Нашим армиям, по желанию Союзника Нашего, Императора Австрийского, идти усмирять мятеж в Венгрии и восстановить в оной законную власть ее Государя. – Божиим милосердием так и совершилось»

(7) «... Вступая на прародительский НАШ Престол Российской Империи и неразделимых с нею Царства Польского и Великого Княжества Финляндского... да исполняются через НАС постоянные желания и виды Августейших НАШИХ предшественников ПЕТРА, ЕКАТЕРИНЫ, АЛЕКСАНДРА Благословенного и Незабвенного НАШЕГО Родителя»

Ответ: (3), (6)

Задание №10

вариант 1

Перед Вами изображение памятника:



В основании памятника изображен ряд исторических персонажей, сыгравших важную роль в истории России и развитии ее государственности.

В предложенном перечне укажите тех исторических персонажей, которые были увековечены на данном памятнике:

- (1) П.А. Столыпин
- (2) А.Г. Орлов
- (3) Е.Ф. Канкрин
- (4) А.В. Суворов
- (5) А.И. Остерман
- (6) Г.Р. Державин
- (7) П.А. Валуев
- (8) И.И. Бецкой
- (9) Г.А. Потемкин
- (10) Д.А. Толстой

Ответ: (2), (4), (6), (8), (9)

вариант 2

Перед Вами изображение памятника:



В основании памятника изображен ряд исторических персонажей, сыгравших важную роль в истории России и развитии ее государственности.

В предложенном перечне укажите тех исторических персонажей, которые были увековечены на данном памятнике:

- (1) И.Л. Горемыкин
- (2) Е.Р. Дашкова
- (3) А.Х. Бенкендорф
- (4) В.Я. Чичагов
- (5) Б.П. Шереметев
- (6) А.А. Безбородко
- (7) А.А. Аракчеев
- (8) П.А. Румянцев
- (9) И.И. Бецкой
- (10) К.П. Победоносцев

Ответ: (2), (4), (6), (8), (9)

вариант 3

Перед Вами изображение памятника:



В основании памятника изображен ряд исторических персонажей, сыгравших важную роль в истории России и развитии ее государственности.

В предложенном перечне укажите тех исторических персонажей, которые были увековечены на данном памятнике:

- (1) С.Ю. Витте
- (2) А.В. Суворов
- (3) В.П. Кочубей
- (4) Е.Р. Дашкова
- (5) А.С. Меншиков
- (6) А.Г. Орлов
- (7) М.Т. Лорис-Меликов
- (8) Г.Р. Державин
- (9) Г.А. Потемкин
- (10) И.И. Дибич

Ответ: (2), (4), (6), (8), (9)

Задание №11.

Вариант 1

Перед Вами изображение агитационного плаката, появление которого связано со значимыми событиями в развитии российской государственности:



В каком году проводились выборы, на этапе агитационной кампании которых появился данный плакат? Укажите год (цифровое значение).

Ответ: 1989

Вариант 2

Перед Вами изображение агитационного плаката, появление которого связано со значимыми событиями в развитии российской государственности:




В каком году проводились выборы, на этапе агитационной кампании которых появился данный плакат? Укажите год (цифровое значение).

Ответ: 1989

Задание №12.

Вариант 1

Перед Вами изображение агитационного плаката одной из политических партий начала XX века:



Кто из указанных ниже исторических персонажей являлся членом данной политической партии?

- (1) Александр Григорьевич Булыгин
- (2) Александр Иванович Гучков
- (3) Александр Федорович Керенский
- (4) Николай Дмитриевич Кондратьев
- (5) Георгий Евгеньевич Львов
- (6) Юлий Осипович Мартов
- (7) Алексей Иванович Рыков
- (8) Борис Викторович Савинков
- (9) Григорий Яковлевич Сокольников
- (10) Виктор Михайлович Чернов

Ответ: (3), (4), (8), (10)

Вариант 2

Перед Вами изображение агитационного плаката одной из политических партий начала XX века:



Кто из указанных ниже исторических персонажей являлся членом данной политической партии?

- (1) Николай Дмитриевич Авксентьев
- (2) Александр Иванович Гучков
- (3) Александр Федорович Керенский
- (4) Глеб Максимилианович Кржижановский
- (5) Николай Дмитриевич Кондратьев
- (6) Павел Николаевич Милуков
- (7) Георгий Валентинович Плеханов
- (8) Михаил Владимирович Родзянко
- (9) Яков Михайлович Свердлов
- (10) Виктор Михайлович Чернов

Ответ: (1), (3), (5), (10)

Вариант 3

Перед Вами изображение агитационного плаката одной из политических партий начала XX века:



Кто из указанных ниже исторических персонажей являлся членом данной политической партии?

- (1) Григорий Евсеевич Зиновьев
- (2) Александр Федорович Керенский
- (3) Николай Дмитриевич Кондратьев
- (4) Сергей Андреевич Муромцев
- (5) Григорий Константинович Орджоникидзе
- (6) Федор Никифорович Плевако
- (7) Владимир Митрофанович Пуришкевич
- (8) Мария Александровна Спиридонова
- (9) Пётр Бернгардович Струве
- (10) Виктор Михайлович Чернов

Ответ: (2), (3), (8), (10)

Задание №13.

вариант 1

Перед Вами картина, выполненная в стиле социалистического реализма:



На картине изображен ряд исторических персонажей, сыгравших важную роль в истории России (СССР).

В предложенном перечне укажите тех исторических персонажей, кто изображен на данной картине:

- (1) Ю.В. Андропов
- (2) И.С. Конев
- (3) Н.И. Бухарин
- (4) А.И. Микоян
- (5) М.С. Горбачев
- (6) Г.М. Маленков
- (7) М.И. Калинин
- (8) Н.С. Хрущев
- (9) Л.И. Брежнев
- (10) В.М. Молотов

Ответ: (4), (6), (8), (10)

вариант 2

Перед Вами картина, выполненная в стиле социалистического реализма:



На картине изображен ряд исторических персонажей, сыгравших важную роль в истории России (СССР).

В предложенном перечне укажите тех исторических персонажей, кто изображен на данной картине:

- (1) Ю.В. Андропов
- (2) Г.К. Жуков
- (3) Л.Д. Троцкий
- (4) М.Н. Тухачевский
- (5) К.К. Рокоссовский
- (6) Г.М. Маленков
- (7) М.И. Калинин
- (8) Н.С. Хрущев
- (9) Л.И. Брежнев
- (10) В.М. Молотов

Ответ: (2), (5), (7), (10)

вариант 3

Перед Вами картина, выполненная в стиле социалистического реализма:



На картине изображен ряд исторических персонажей, сыгравших важную роль в истории России (СССР).

В предложенном перечне укажите тех исторических персонажей, кто изображен на данной картине:

- (1) К.У. Черненко
- (2) М.Н. Тухачевский
- (3) Л.Д. Троцкий
- (4) К.Е. Ворошилов
- (5) М.С. Горбачев
- (6) Л.М. Каганович
- (7) М.И. Калинин
- (8) Н.С. Хрущев
- (9) Л.И. Брежнев
- (10) В.М. Молотов

Ответ: (4), (6), (8), (10)

Задание №14

вариант 1

Субъекты Российской Федерации имеют свои гербы, отражающие их славное прошлое, национальное и культурное своеобразие.

Составьте пары по следующему принципу: описание герба республики в составе Российской Федерации – наименование республики.

(А) Герб Республики представляет собой сине-голубой круг, окаймленный узкой полоской золотистого цвета. На сине-голубом фоне изображены: в верхней части круга — трехглавая вершина одной из высочайших гор Центральной Азии — Белухи — Юч-Сюмера; в центре — грифон — Кан-Кереде с головой и крыльями птицы и туловищем льва; в нижней части круга – орнаментальное изображение двух самых больших рек республики — Бии и Катуня, между ними треножник-очаг; волнистые линии — символ Телецкого озера.

(Б) Государственный герб Республики представляет собой изображение памятника Салавату Юлаеву на фоне восходящего солнца и его лучей, вписанное в круг, обрамленный национальным орнаментом. Ниже изображено соцветие курая, лента, окрашенная в цвета Государственного флага Республики, с надписью по белому полю названием республики.

(В) Герб республики представляет собой круг, в центре которого изображен орел с распростертыми крыльями. В центре герба по вертикальной оси на фоне Кавказских гор расположена боевая башня. В левой стороне от башни изображена Столовая гора, в правой – гора Казбек. Над горами и башней изображен полукруг Солнца, находящегося в зените, от которого исходит вниз семь прямых лучей. По контуру круга надпись с названием республики на русском и национальном языках.

(Г) Герб республики представляет собой круг, в центре которого расположено изображение древнего всадника со знаменем с наскальных рисунков реки Лены, на фоне солнечного диска-щита, помещенного в обрамление с традиционным национальным орнаментом в виде семи ромбических кристаллообразных фигур и названием республики на русском и национальном языках.

(Д) Герб республики имеет форму геральдического щита, в центральной части которого изображён золотой орёл. Над ним размещено изображение золотого солнца в форме диска, обрамлённого спиральным орнаментом. В основе щита размещены бело-золотого цвета снеговые вершины гор, равнина, море и в картуше – рукопожатие, вокруг которого проходит зелёная геральдическая лента с надписью белыми буквами с названием республики. В верхней половине щит обрамлён золотой полосой, в нижней – двумя орнаментальными кантами: слева – синим, справа – красным.

- (1) Алтай
- (2) Башкирия
- (3) Дагестан
- (4) Ингушетия
- (5) Якутия

Ответ: А–1, Б–2, В–4, Г–5, Д–3

вариант 2

Субъекты Российской Федерации имеют свои гербы, отражающие их славное прошлое, национальное и культурное своеобразие.

Составьте пары по следующему принципу: описание герба республики в составе Российской Федерации (буквы А, Б, В, Г, Д) – наименование республики (цифры 1, 2, 3, 4, 5)

(А) Герб республики представляет собой трехцветный круг (сине-бело-желтый цвета национального флага). В верхней части круга – золотое соембо – традиционный символ вечной жизни (солнце, луна, очаг). В центре круга — одинаковой ширины сине-белые полосы — волны Байкала, а также светло-зеленого и темно-зеленого фона горные вершины. Нижнюю часть круга обрамляет голубая лента «хадак».

(Б) Государственный герб Республики представляет собой изображение памятника Салавату Юлаеву на фоне восходящего солнца и его лучей, вписанное в круг, обрамленный национальным орнаментом. Ниже изображено соцветие курая, лента, окрашенная в цвета Государственного флага Республики, с надписью по белому полю названием республики.

(В) Государственный герб Республики представляет собой круглую геральдическую форму (щит). В жёлтом поле поверх лазоревого шара серебряная гора с двух вершинами (Эльбрус), вписанная по краям, а в оконечности отвлеченная и вогнутая в лазури. Щит окружен лазоревым кольцом, накрытым сверху серебряным безантом с золотой каймой (Солнцем), а внизу золотой чашей, и обрамленным по краям зелеными, окаймленными золотом ветвями рододендрона с тремя серебряными цветками на каждой из ветвей.

(Г) Герб республики представляет собой круг, в центре которого расположено изображение древнего всадника со знаменем с наскальных рисунков реки Лены, на фоне солнечного диска-щита, помещенного в обрамление с традиционным национальным орнаментом в виде семи ромбических кристаллообразных фигур и названием республики на русском и национальном языках.

(Д) Герб Республики представляет собой сине-голубой круг, окаймленный узкой полоской золотистого цвета. На сине-голубом фоне изображены: в верхней части круга — трехглавая вершина одной из высочайших гор Центральной Азии — Белухи — Юч-Сюмера; в центре — грифон — Кан-Кереде с головой и крыльями птицы и туловищем льва; в нижней части круга – орнаментальное изображение двух самых больших рек республики — Бии и Катуня, между ними треножник-очаг; волнистые линии — символ Телецкого озера.

- (1) Алтай
- (2) Башкирия
- (3) Бурятия
- (4) Якутия
- (5) Карачаево-Черкесия

Ответ: А–3, Б–2, В–5, Г–4, Д–1

вариант 3

Субъекты Российской Федерации имеют свои гербы, отражающие их славное прошлое, национальное и культурное своеобразие.

Составьте пары по следующему принципу: описание герба республики в составе Российской Федерации (буквы А, Б, В, Г, Д) – наименование республики (цифры 1, 2, 3, 4, 5)

(А) Герб республики представляет собой трехцветный круг (сине-бело-желтый цвета национального флага). В верхней части круга – золотое соембо – традиционный символ вечной жизни (солнце, луна, очаг). В центре круга — одинаковой ширины сине-белые полосы — волны Байкала, а также светло-зеленого и темно-зеленого фона горные вершины. Нижнюю часть круга обрамляет голубая лента «хадак».

(Б) Государственный герб Республики представляет собой изображение памятника Салавату Юлаеву на фоне восходящего солнца и его лучей, вписанное в круг, обрамленный национальным орнаментом. Ниже изображено соцветие курая, лента, окрашенная в цвета Государственного флага Республики, с надписью по белому полю названием республики.

(В) Государственный герб Республики представляет собой круглую геральдическую форму (щит). В жёлтом поле поверх лазоревого шара серебряная гора с двух вершинами (Эльбрус), вписанная по краям, а в оконечности отвлеченная и вогнутая в лазури. Щит окружен лазоревым кольцом, накрытым сверху серебряным безантом с золотой каймой (Солнцем), а внизу золотой чашей, и обрамленным по краям зелеными, окаймленными золотом ветвями рододендрона с тремя серебряными цветками на каждой из ветвей.

(Г) Герб республики представляет собой круг, в центре которого расположено изображение древнего всадника со знаменем с наскальных рисунков реки Лены, на фоне солнечного диска-щита, помещенного в обрамление с традиционным национальным орнаментом в виде семи ромбических кристаллообразных фигур и названием республики на русском и национальном языках.

(Д) Герб республики имеет форму геральдического щита, в центральной части которого изображён золотой орёл. Над ним размещено изображение золотого солнца в форме диска, обрамлённого спиральным орнаментом. В основе щита размещены бело-золотого цвета снеговые вершины гор, равнина, море и в картуше – рукопожатие, вокруг которого проходит зелёная геральдическая лента с надписью белыми буквами с названием республики. В верхней половине щит обрамлён золотой полосой, в нижней – двумя орнаментальными кантами: слева – синим, справа – красным.

- (1) Башкирия
- (2) Бурятия
- (3) Дагестан
- (4) Карачаево-Черкесия
- (5) Якутия

Ответ: А–2, Б–1, В–4, Г–5, Д–3

Задание №15.

В марте 2019 году постановлением Правительства России создан инновационный научно-технологический центр МГУ «Воробьёвы горы» (ИНТЦ МГУ).

Основная идея создания ИНТЦ МГУ заключается в формировании на новой территории Московского государственного университета имени М.В.Ломоносова инновационной экосистемы мирового уровня в целях реализации приоритетов научно-технологического развития России, повышения инвестиционной привлекательности сферы исследований и разработок, коммерциализации их результатов, расширения доступа граждан и юридических лиц к участию в перспективных, коммерчески привлекательных научных и научно-технических проектах.

В ближайшие годы на «новой территории» МГУ возникнет современный университетский кампус, включающий учебные корпуса, музейно-просветительский и образовательный центры, исследовательские и научные кластеры (информационных технологий, математики и вычислений; нанотехнологий и новых материалов; машинного инжиниринга и робототехники; наук о земле; космических исследований), многофункциональный физкультурно-оздоровительный комплекс, технопарк.

В целях развития транспортных возможностей «новой территории» МГУ планируется строительство местной улично-дорожной сети.



Выполните следующее задание:

В честь какого исторического деятеля – профессора (почетного профессора) Московского университета, оказавшего значимое влияние на развитие российской государственности, Вы предложили бы назвать одну из улиц «новой территории» МГУ? Свой ответ аргументируйте конкретными заслугами выбранной исторической личности.

Критерии проверки

Данное задание относится к творческим заданиям повышенной сложности.

При проверке ответа на одиннадцатый вопрос Олимпиады будут учитываться:

- 1. Творческий характер восприятия темы и смысловое единство ответа.**
- 2. Грамотность использования исторических фактов и терминов.**
- 3. Аргументированность, четкость и структурированность ответа.**
- 4. Полнота раскрытия поставленных вопросов.**
- 5. Оригинальность и самостоятельный характер работы.**